



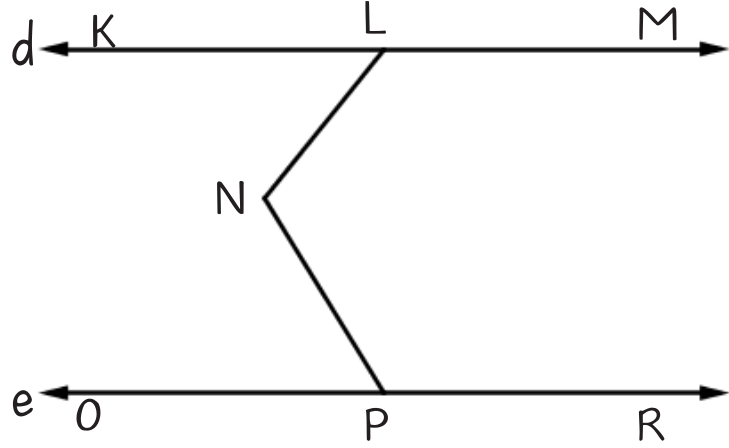
MATEMATİK DOĞRULAR VE AÇILAR

Çözülmesi Gereken Sorular

 
@sorbilegitim



Örnek1:

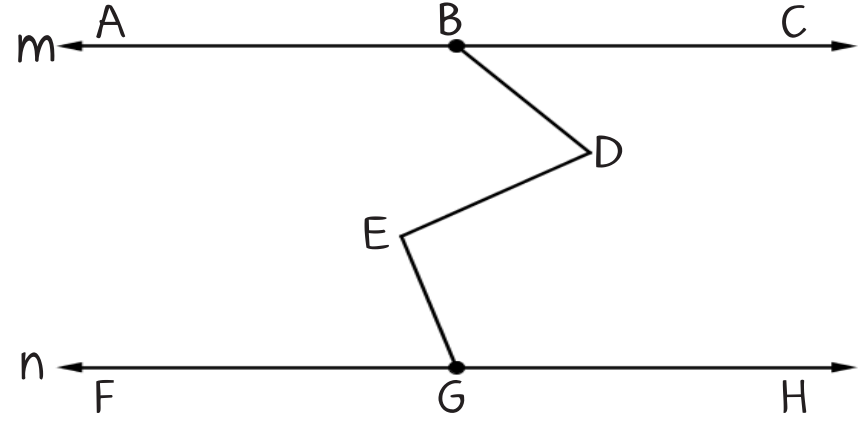


Yukarıdaki şekilde $d \parallel e$ 'dir.

$m(\widehat{KLN}) = 55^\circ$ ve $m(\widehat{OPN}) = 60^\circ$ olduğuna

göre $m(\widehat{LNP}) = ?$

Örnek2:



Yukarıdaki şekilde $n \parallel m$ 'dir.

$m(\widehat{ABD}) = 126^\circ$, $m(\widehat{FGE}) = 63^\circ$ ve

$m(\widehat{GED}) = 78^\circ$ olduğuna göre $m(\widehat{BDE}) = ?$

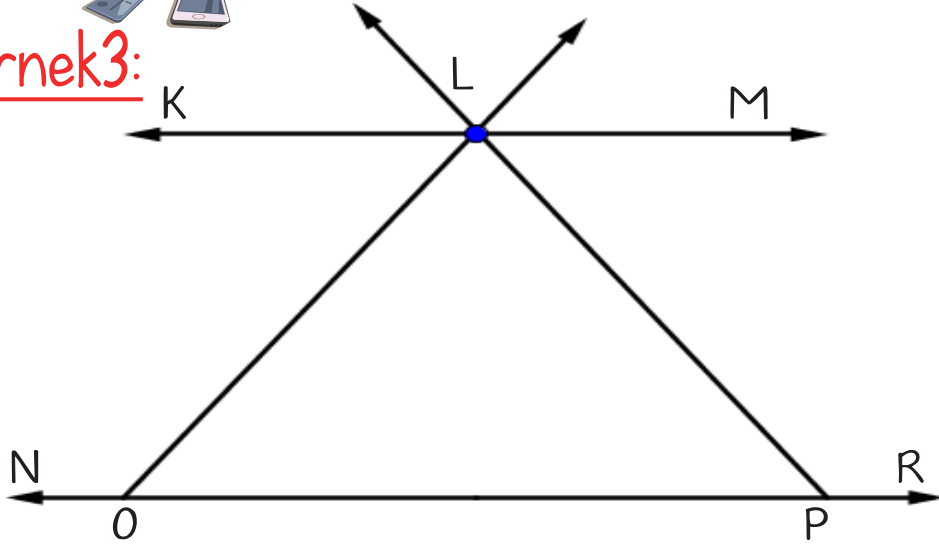


MATEMATİK DOĞRULAR VE AÇILAR

YouTube Instagram
@sorbilegitim



Örnek 3:

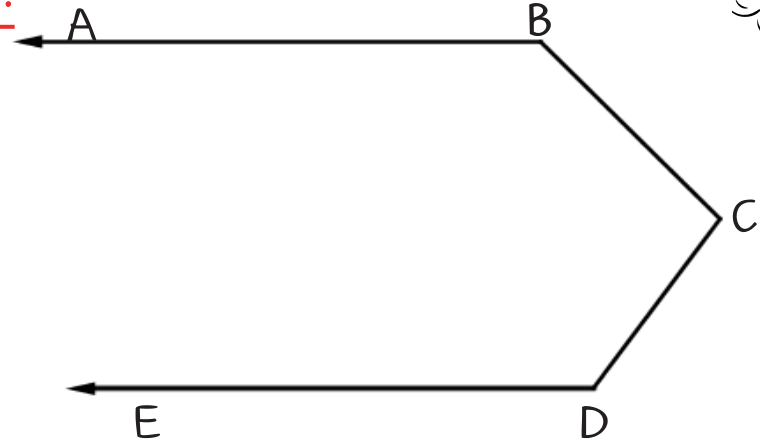


Yukarıdaki şekilde $KM \parallel NR$ 'dir.

$m(\widehat{NOL}) = 110^\circ$ ve $m(\widehat{RPL}) = 130^\circ$ olduğuna

göre $m(\widehat{OLP}) = ?$

Örnek 4:



Yukarıdaki şekilde $[BA \parallel [DE$ 'dir.

$m(\widehat{BCD}) = 80^\circ$ ve $m(\widehat{EDC}) = 130^\circ$ olduğuna

göre $m(\widehat{ABC}) = ?$

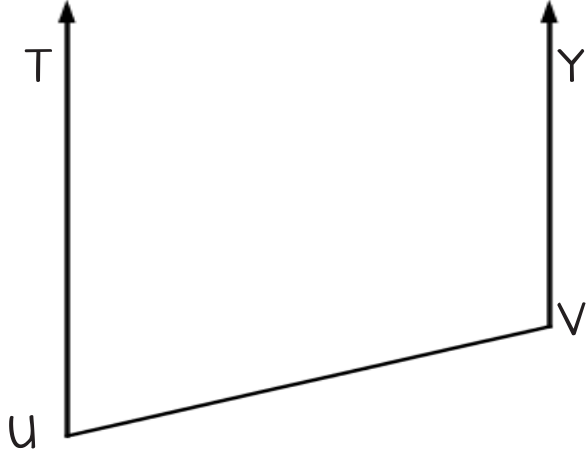


MATEMATİK DOĞRULAR VE AÇILAR

@sorbilegitim



Örnek5:

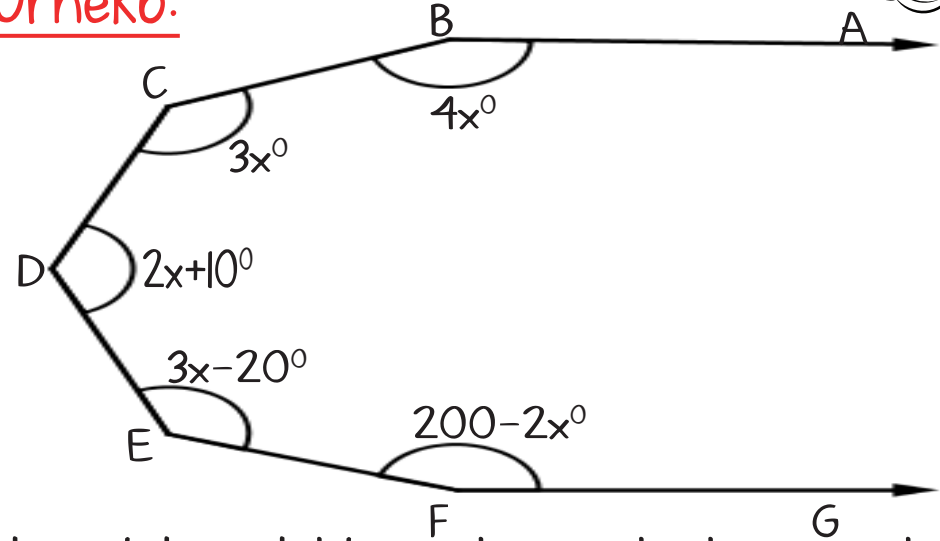


Yukarıdaki şekilde $[UT // [VY$ 'dir.

$m(\widehat{TUV}) = 60^\circ$ olduğuna göre

$m(\widehat{YVU}) = ?$

Örnek6:



Yukarıdaki şekilde açılarının ölçüleri verilmiş ve $[BA // [FG$ 'dir.

verilenlere göre $m(\widehat{CDE}) = ?$

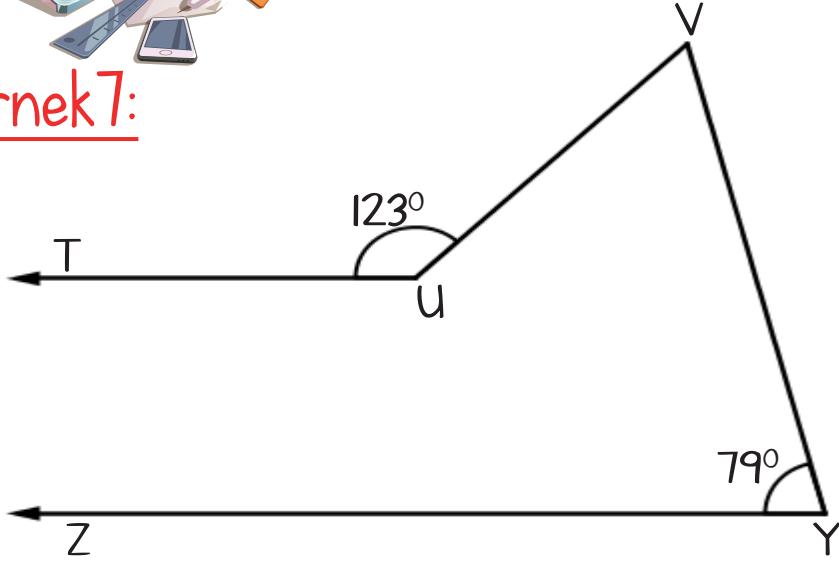


MATEMATİK DOĞRULAR VE AÇILAR

 
@sorbilegitim



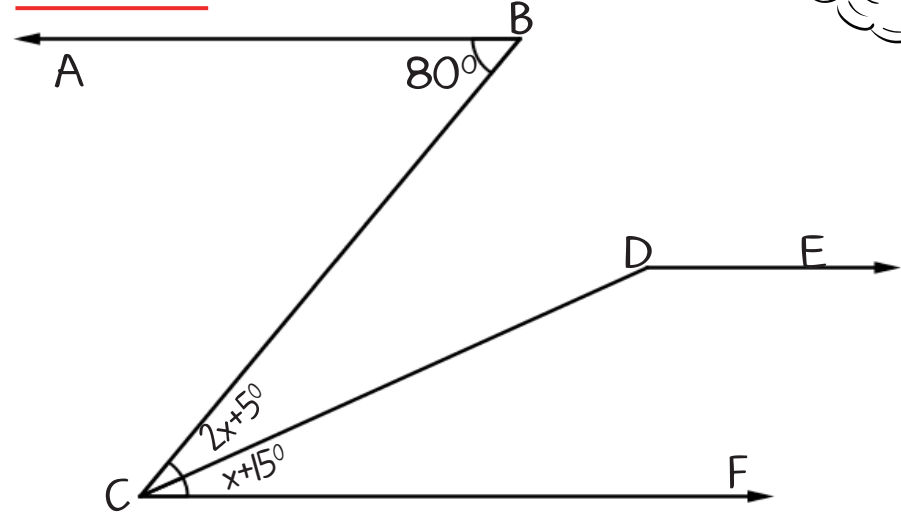
Örnek 7:



Yukarıdaki şekilde açılarının ölçüleri verilmiş ve $[UT // [YZ$ 'dir.

verilenlere göre $m(\widehat{UVY}) = ?$

Örnek 8:



Yukarıdaki şekilde açılarının ölçüleri verilmiş ve $[BA // [DE // [FC$ 'dir.

verilenlere göre $m(\widehat{CDE}) = ?$